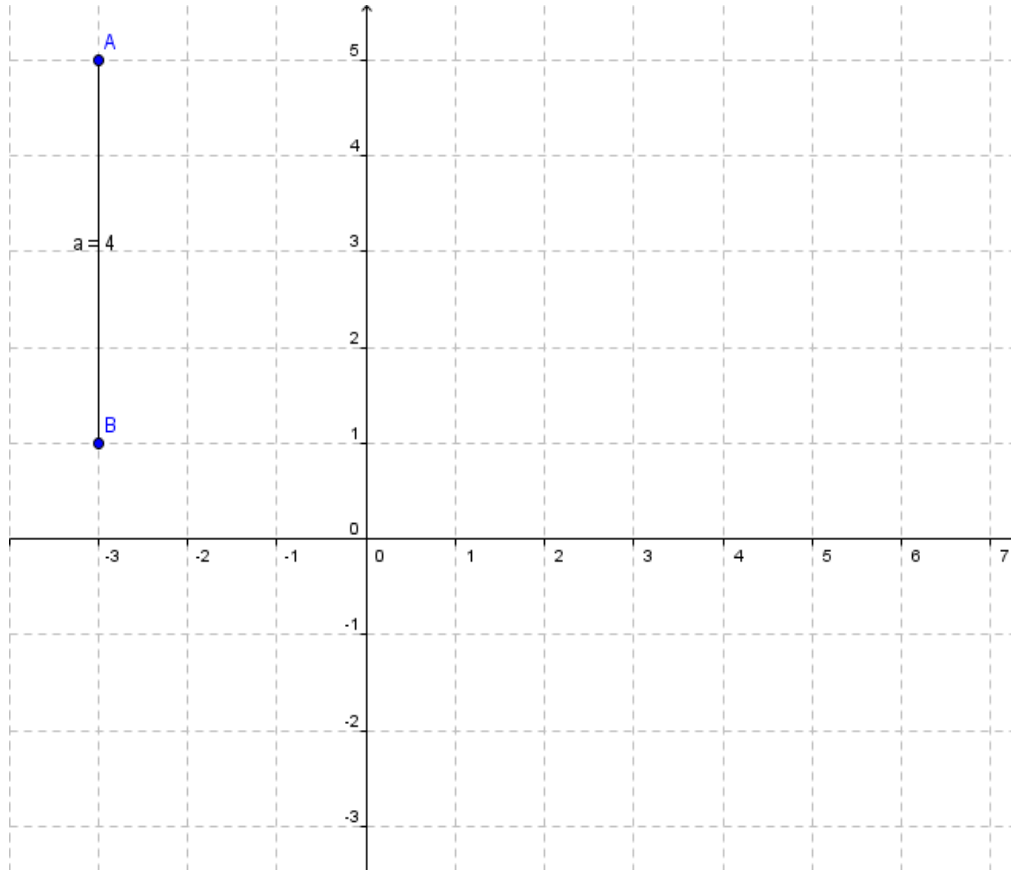


Appunti: il piano cartesiano

Distanza tra due punti

Come determinare la distanza AB tra i punti $A(x_A; y_A)$ e $B(x_B; y_B)$:

- Se i due punti A e B hanno la stessa ascissa $x_A = x_B$ allora

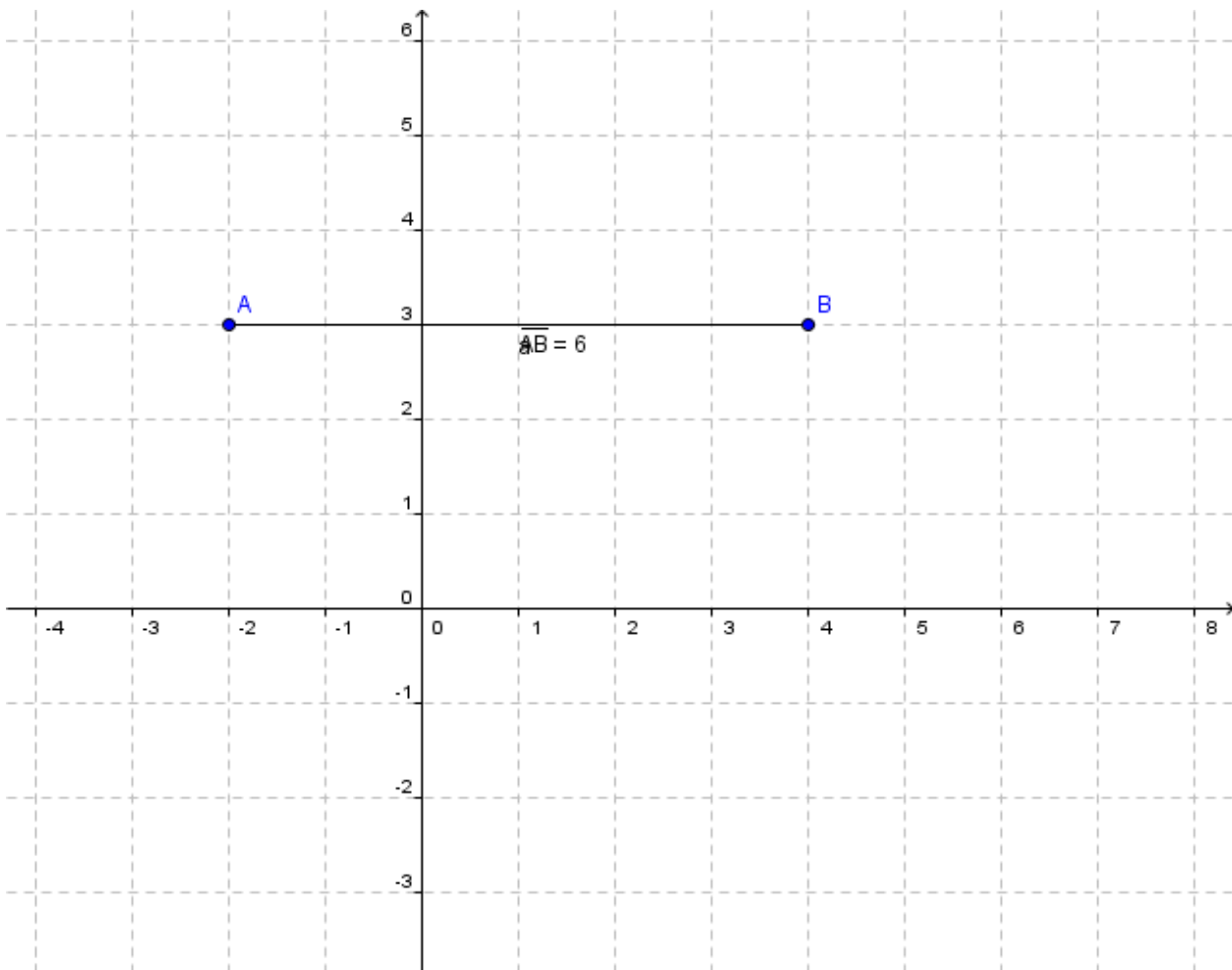


$A(-3; 1)$ $B(-3; 5)$

$$d(AB) = |y_B - y_A|$$

$$d(AB) = |1 - 5| = |-4| = 4$$

- Se i due punti A e B hanno la stessa ordinata $y_A=y_B$ allora



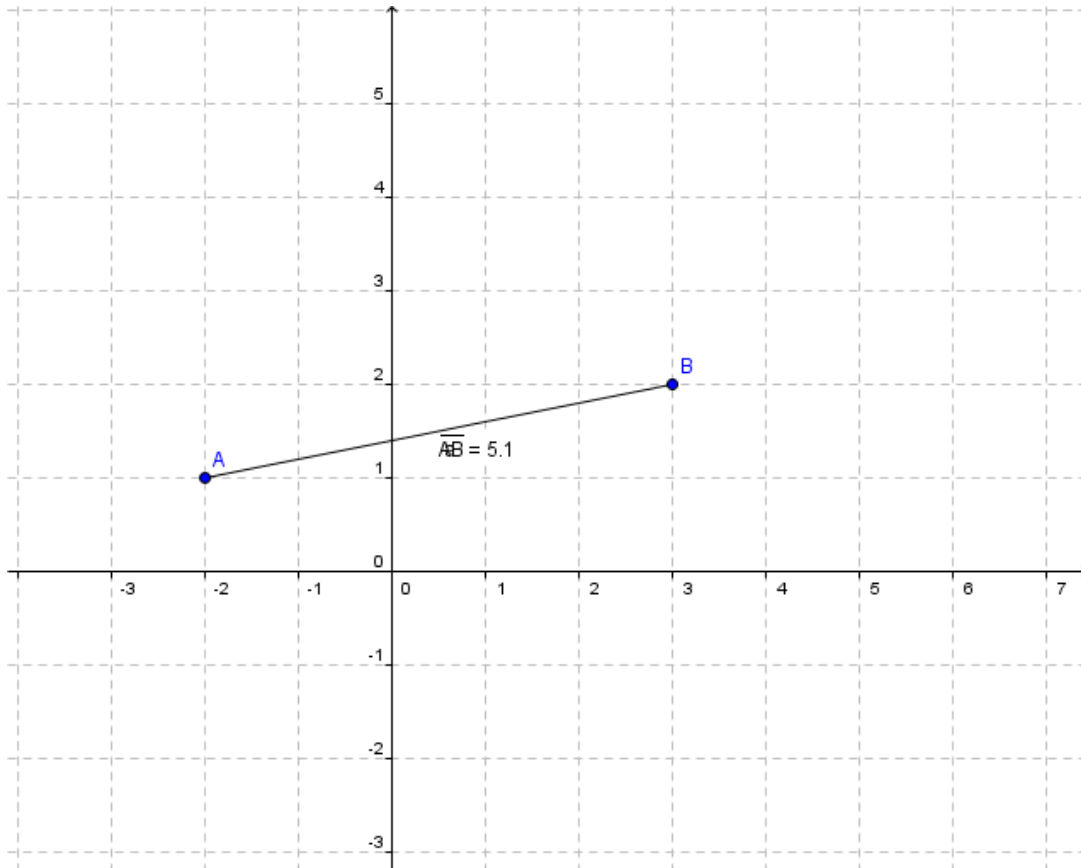
A(-2;3) B(4;3)

$$d(AB)=|x_B - x_A|$$

$$d(AB)=|4 - (-2)| = |4 + 2| = 6$$

- Se i due punti A e B non hanno né la stessa ascissa né la stessa ordinata, allora

$$d(AB) = \sqrt{(x_B - x_A)^2 + (y_B - y_A)^2}$$



A(-2;-1); B(3;2)

$$d(AB) = \sqrt{[3 - (-2)]^2 + [2 - (-1)]^2} = \sqrt{5^2 + 3^2} = \sqrt{25 + 9} = \sqrt{34}$$

Coordinate del punto medio M

Come determinare le coordinate del punto medio M di un segmento AB sapendo che $A(x_A; y_A)$ e $B(x_B; y_B)$:

$$X_M = \frac{x_A + x_B}{2}; \quad Y_M = \frac{y_A + y_B}{2}$$

Ex: Dati $A(-2; 4)$ e $B(4; -2)$ determinare le coordinate del punto medio del segmento di estremi AB.

$$x_M = \frac{-2+4}{2} = \frac{2}{2} = 1 \quad y_M = \frac{4-2}{2} = \frac{2}{2} = 1 \quad \text{ossia} \quad M(1; 1)$$

Baricentro di un triangolo

Come determinare le coordinate del baricentro G di un triangolo di vertici $A(x_A; y_A)$, $B(x_B; y_B)$ e $C(x_C; y_C)$

$$X_G = \frac{x_A + x_B + x_C}{3}; \quad Y_G = \frac{y_A + y_B + y_C}{3}$$

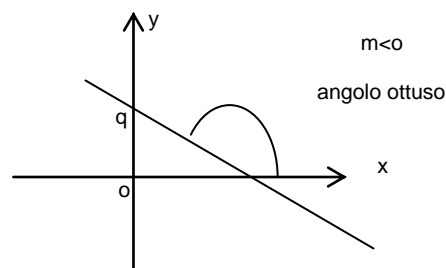
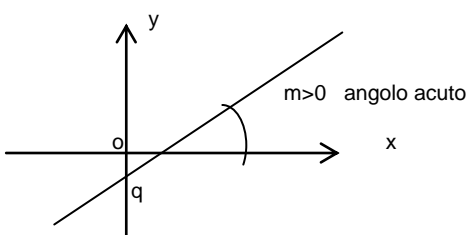
Le rette nel piano cartesiano

La funzione lineare di equazione $y=mx+q$ con $m, q \in \mathbb{R}$ ha come grafico una **retta**

Il coefficiente **m** si chiama **coefficiente angolare della retta** e rappresenta la pendenza della retta, ossia l'angolo che la retta forma col semiasse positivo delle x:

- Se $m > 0$ l'angolo formato dalla retta con l'asse delle x è acuto
- Se $m < 0$ l'angolo formato dalla retta con l'asse delle x è ottuso

Il coefficiente **q** rappresenta il **punto di intersezione della retta con l'asse delle y** e viene detto **ordinata all'origine**.



Se $q=0$ allora la funzione lineare ha come equazione $y=mx$, che è l'equazione di una **retta passante per l'origine $O(0,0)$**

Ex: $y=3x$

Per disegnarla occorre un altro Punto per esempio

x	y
1	3

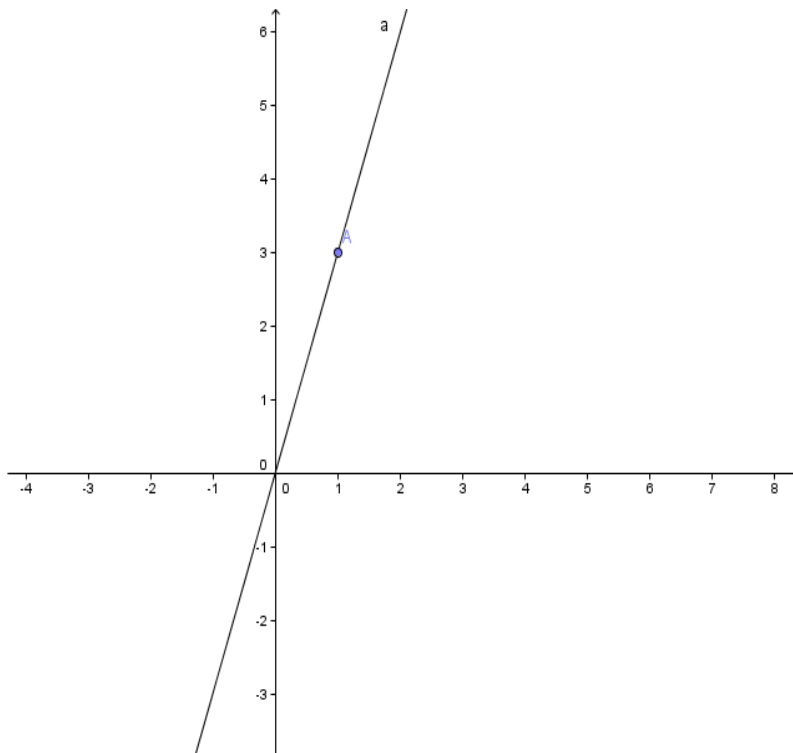


Grafico di una retta

Per rappresentare graficamente una retta occorre riportare l'equazione in forma esplicita.

- la forma $ax+by+c=0$ è detta forma implicita della retta.
- La forma $y=mx+q$ è detta forma esplicita dell'equazione di una retta

Ex: $3x+2y+4=0$ forma implicita

$y=4x+1$ forma esplicita

Per rendere l'equazione in forma esplicita, occorre isolare la y secondo le regole delle equazioni.

Esempio:

Rendere in forma esplicita la retta $3x+2y+4=0$

Si procede in questo modo:

si isola la y: $2y=-3x-4$

si divide per il coefficiente della y $y = \frac{-3}{2}x - 2$

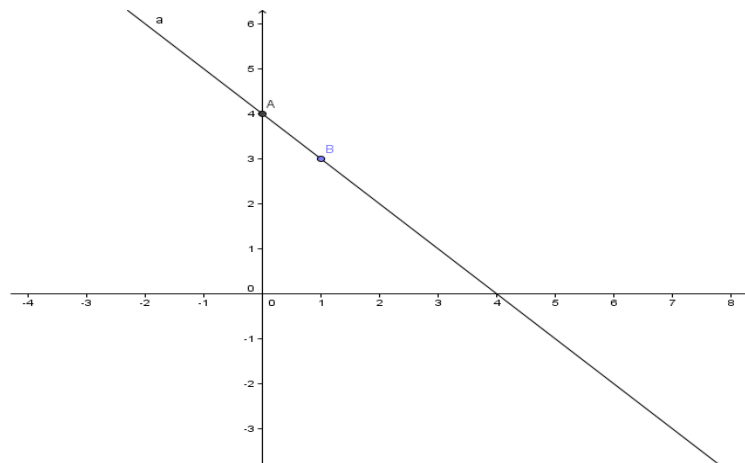
$m = \frac{-3}{2}$ è il coefficiente angolare; $q = -2$ è l'ordinata all'origine

Per fare il grafico di una retta sono sufficienti due punti:

scritta la retta in forma esplicita un punto è dato dall'ordinata all'origine q che rappresenta sempre l'intersezione con l'asse delle y e per l'altro basta dare un numero qualsiasi alla x (diverso dallo 0) e calcolando si trova la y corrispondente.

Ex: $y = -x + 4$

x	y
1	3



Alcuni modi per determinare l'equazione della retta

Come determinare il coefficiente angolare di una retta.

Se conosco l'equazione di una retta in forma esplicita $y=mx+q$, m è il coefficiente angolare.

Se non conosco l'equazione della retta, ma so che passa per i punti $A(x_A; y_A)$ e $B(x_B; y_B)$, allora il coefficiente angolare m della retta AB è espresso dalla formula.

$$m = \frac{\Delta y}{\Delta x} = \frac{y_B - y_A}{x_B - x_A} \quad \text{con } x_A \neq x_B \quad (\text{se } x_A = x_B \text{ allora la retta passante per i punti A e B è parallela all'asse delle y})$$

Ex:

Determina l'equazione della retta passante per i punti A(-2;5) B(-3;1)

Risolviamo l'esercizio in due modi:

Primo metodo:

Devo determinare l'equazione della retta $y=mx+q$, quindi devo calcolare m e q

Si calcola $m = \frac{y_B - y_A}{x_B - x_A} = \frac{1-5}{-3+2} = \frac{-4}{-1} = 4$

Per calcolare q, basta sostituire l' m trovato nell'equazione della retta ed imporre il passaggio per un punto o A o B, cioè si sostituiscono le coordinate del punto al posto della x e della y nell'equazione.

Procediamo col calcolo:

$y=4x+q$ sostituzione di m

$5=4(-2)+q$ passaggio per A

$5=-8+q$ da cui $q=13$ **$y=4x+13$** è l'equazione della retta

Secondo metodo: A(-2;5) B(-3;1)

col sistema: i punti appartengono alla retta quindi si impone il passaggio per entrambi data l'equazione generica $y=mx+q$ si sostituiscono le coordinate dei punti al posto della x e della y nell'equazione. Si ottiene un sistema in **m** e **q** da risolvere. Trovati m, q, si risostituiscono nell'equazione generale della retta.

$\begin{cases} 5 = -2m + q & \text{passaggio per A} \\ 1 = -3m + q & \text{passaggio per B} \end{cases}$ il sistema è facilmente risolvibile col metodo di somma e

riduzione

$\begin{cases} 5 = -2m + q \\ -1 = +3m - q \end{cases} \quad \begin{cases} m = 4 \\ 5 = -8 + q \end{cases} \quad \begin{cases} m = 4 \\ q = 13 \end{cases} \quad \mathbf{y=4m+13}$

$4 = m$ //

Condizioni di parallelismo e di perpendicolarità

Due rette sono **parallele** se e solo se hanno lo stesso coefficiente angolare **$m=m'$**

Due rette sono **perpendicolari** se e solo se **$m = -\frac{1}{m'}$**

Equazione del fascio proprio di rette

Equazione della retta di coefficiente angolare m passante per il punto $P(x_1; y_1)$:

$$y - y_1 = m(x - x_1)$$

Es :

Scrivere l'equazione della retta passante per $P(2;3)$ e parallela $r: y - 3x + 1 = 0$

Soluzione:

Esplicitare la retta r :

$$y = 3x - 1$$

poiché si richiede la retta parallela allora per la condizione di parallelismo le due rette devono avere lo **stesso** coefficiente angolare **$m = m'$**

ora si utilizza l'equazione del fascio di rette:

fra tutte le rette passanti per $P(2;3)$ si vuole proprio quella con coeff. Angolare $m' = 3$

$y - 3 = 3(x - 2)$ da cui si ottiene , facendo i calcoli

$$y = 3x - 6 + 3$$

$y = 3x - 3$ che è l'equazione della retta cercata (N.B. ha lo stesso coeff. Angolare!!)

Posizione reciproca di due rette

Abbiamo detto che ogni equazione lineare $ax + by + c = 0$ ha come grafico una retta.

Per determinare la posizione reciproca di due rette si deve risolvere un sistema fra le loro equazioni:

1. se il sistema ha una sola soluzione reale, si dice **determinato**, allora le rette sono **incidenti** e si intersecano in un punto le cui coordinate costituiscono la soluzione del sistema
2. se il sistema non ammette soluzione, si dice che è **impossibile**, allora le rette sono **parallele**
3. se il sistema ammette infinite soluzioni, si dice **indeterminato**, allora le rette sono **coincidenti**

Esempio

Stabilisci la posizione reciproca delle seguenti coppie di rette

$$2x + y - 2 = 0$$

$$3x - y - 3 = 0$$

$$\begin{cases} 2x + y - 2 = 0 \\ 3x - y - 3 = 0 \end{cases}$$

il sistema si risolve con somma e riduzione

$5x - 5 = 0$ da cui $x=1$ poi si sostituisce e si trova $y=0$

le rette si intersecano nel punto $P(1;0)$

